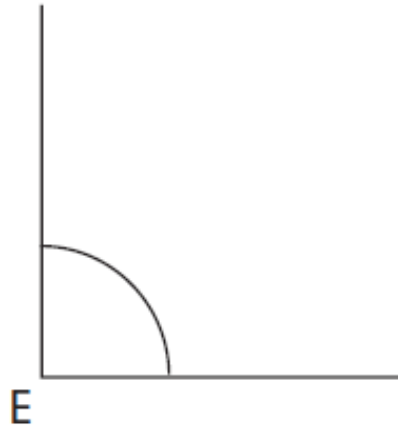


# KENNISKAART

# KENNISKAART

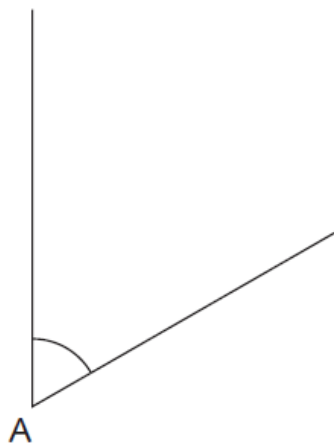
Welke soort hoek is  $\hat{E}$ ?

*Kies uit: gestrekte hoek, rechte hoek, scherpe hoek, stompe hoek*



Welke soort hoek is  $\hat{A}$ ?

*Kies uit: gestrekte hoek, rechte hoek, scherpe hoek, stompe hoek*



# KENNISKAART

# KENNISKAART

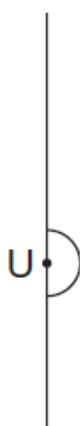
Welke soort hoek is  $\hat{I}$ ?

*Kies uit: gestrekte hoek, rechte hoek, scherpe hoek, stompe hoek*



Welke soort hoek is  $\hat{U}$ ?

*Kies uit: gestrekte hoek, rechte hoek, scherpe hoek, stompe hoek*



# KENNISKAART

# KENNISKAART

Hoeveel graden meet een rechte hoek?

Hoeveel graden meet een gestrekte hoek?

# KENNISKAART

# KENNISKAART

Is een scherpe hoek groter of kleiner dan  $90^\circ$ ?

Is een stompe hoek groter of kleiner dan  $90^\circ$ ?



