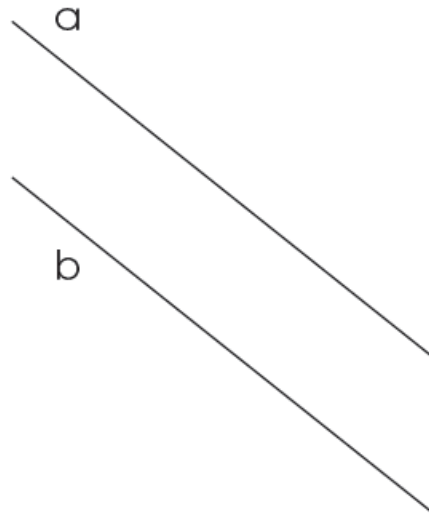


KENNISKAART

KENNISKAART

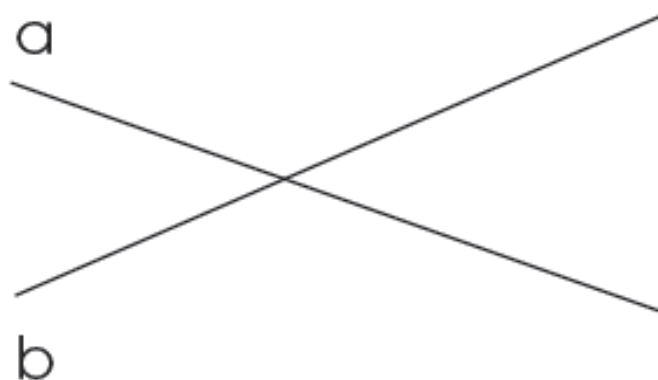
Hoe liggen deze rechten ten opzichte van elkaar?

Kies uit: snijdend, loodrecht, evenwijdig.



Hoe liggen deze rechten ten opzichte van elkaar?

Kies uit: snijdend, loodrecht, evenwijdig.

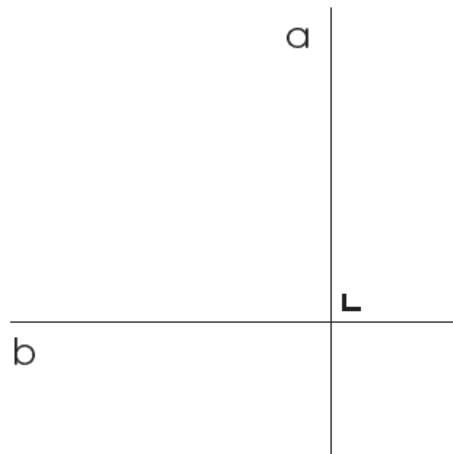


KENNISKAART

KENNISKAART

Hoe liggen deze rechten ten opzichte van elkaar?

Kies uit: snijdend, loodrecht, evenwijdig.



Hoeveel punten hebben twee snijdende rechten
gemeenschappelijk?

KENNISKAART

KENNISKAART

Hoeveel punten hebben evenwijdige rechten
gemeenschappelijk?

Hoeveel grenspunten heeft een halfrechte?

KENNISKAART

KENNISKAART

Hoeveel grenspunten heeft een rechte?

Hoeveel grenspunten heeft een lijnstuk?

