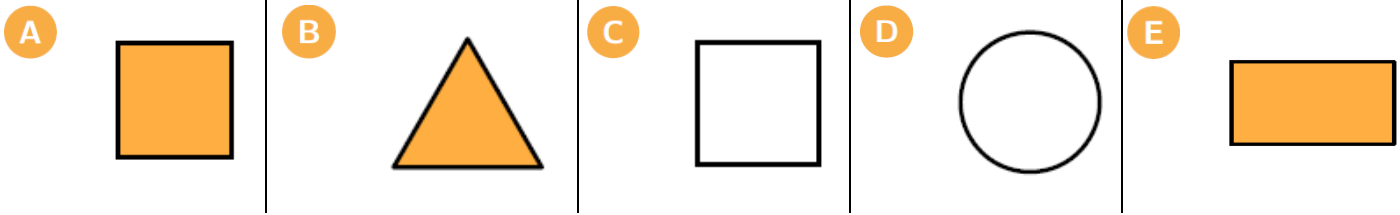


INZICHTKAART

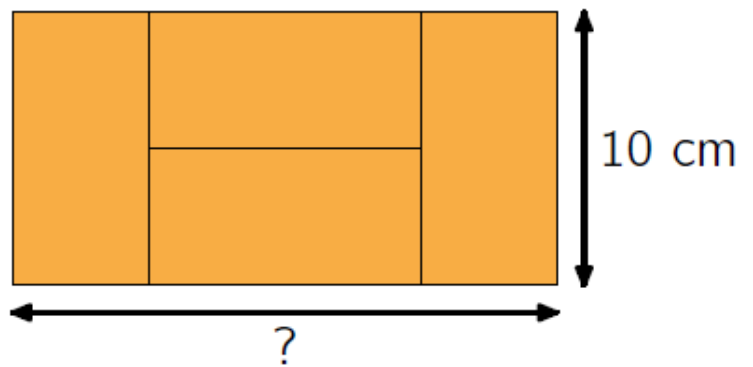
INZICHTKAART

Welke figuur is geen vierkant, is gekleurd en is rond of driehoekig?



Bron: Wallaroe 2011, vraag 4

Els maakt met 4 gelijke rechthoeken een grote rechthoek. De breedte van de grote rechthoek is 10 cm . Wat is de lengte van de grote rechthoek?



- A 10 cm B 20 cm C 30 cm D 40 cm E 50 cm

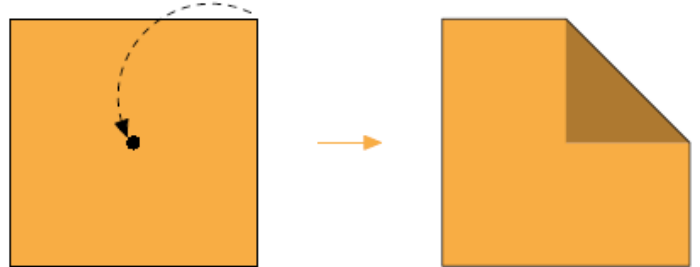
Bron: Wallaroe 2015, vraag 6

INZICHTKAART

INZICHTKAART

Jef vouwt een hoekpunt van een vierkant naar het midden en krijgt zo een vijfhoek. De oppervlakte van het vierkant is 1 cm^2 groter dan die van de vijfhoek.

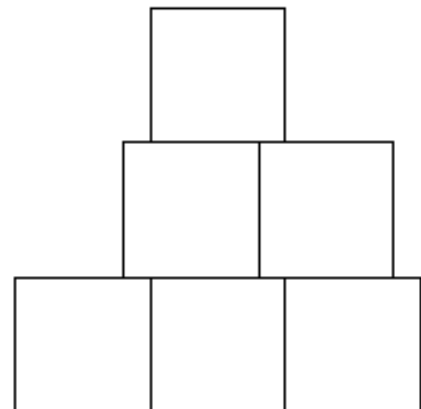
Wat is de oppervlakte van de vijfhoek?



- A 4 cm^2 B 5 cm^2 C 6 cm^2 D 7 cm^2 E 15 cm^2

Bron: Wallaroe 2015, vraag 21

Sami maakt de figuur hiernaast met 6 vierkanten met zijde 1 cm . Wat is de omtrek van deze figuur?



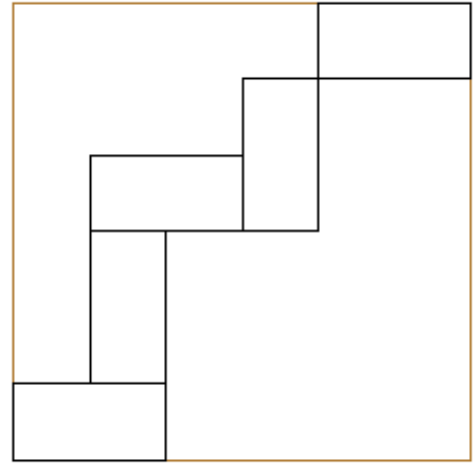
- A 9 cm B 10 cm C 11 cm D 12 cm E 13 cm

Bron: Wallaroe 2015, vraag 23

INZICHTKAART

INZICHTKAART

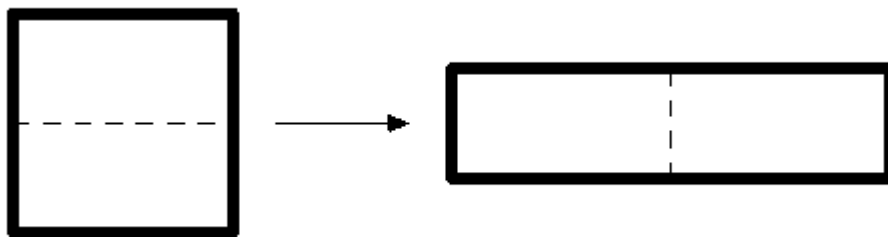
Vijf gelijke rechthoeken liggen in een vierkant met zijde 24 cm , zoals in de figuur. Wat is de omtrek van 1 rechthoek?



- A 16 cm B 18 cm C 20 cm D 22 cm E 24 cm

Bron: Wallaroe 2014, vraag 16

Een vierkant heeft een omtrek van 48 cm . Mariëk snijdt het vierkant middendoor en maakt een rechthoek, zoals in de figuur. Wat is de omtrek van de rechthoek?



- A 24 cm B 30 cm C 40 cm D 50 cm E 60 cm

Bron: Themablaadjes Koala, Omtrek, vraag 2

