

# INZICHTKAART

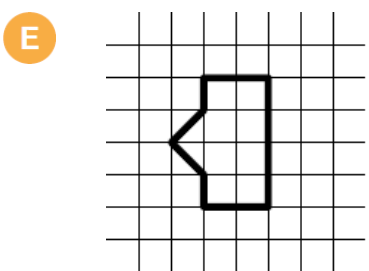
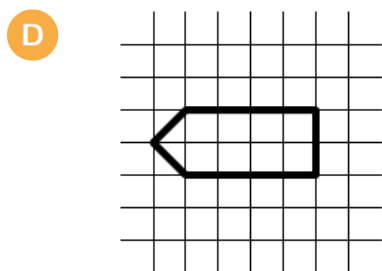
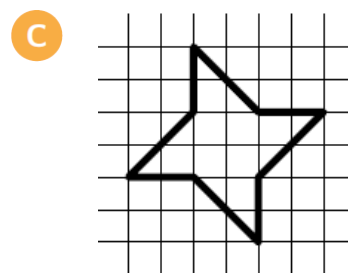
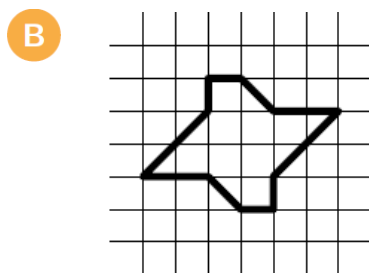
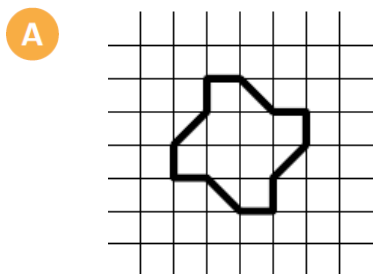
# INZICHTKAART

De opa en oma van Benazir hebben een visvijver in hun tuin.  
Om de vissen te beschermen tegen de poes, maakt opa een  
hek rond de vijver.

Moet opa de omtrek of de oppervlakte van de vijver berekenen om de  
lengte van het net te bepalen?

(Omcirkel het juiste antwoord)

Welke van volgende figuren heeft de grootste **oppervlakte**?



# INZICHTKAART

# INZICHTKAART

Welke van deze sportterreinen heeft de grootste oppervlakte?

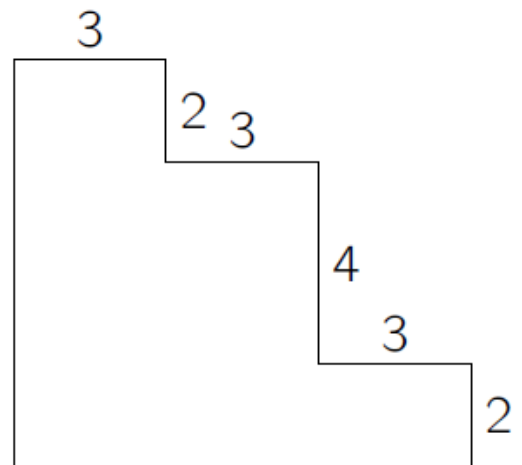


Een voetbalveld



Een beachvolleybalveld

Hoe groot is de **omtrek** van deze figuur?

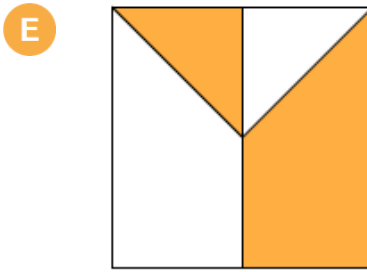
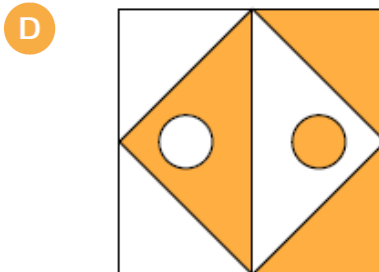
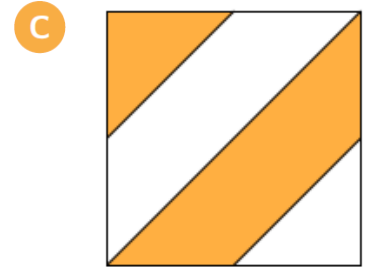
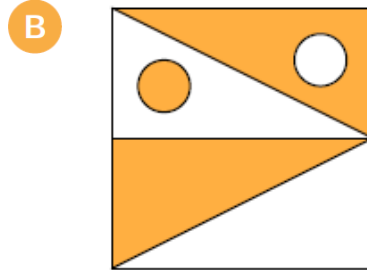
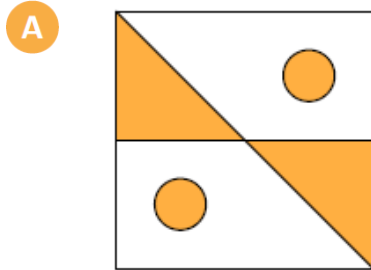


- A** 17      **B** 25      **C** 26      **D** 30      **E** 34

# INZICHTKAART

# INZICHTKAART

In welke tekening is de oppervlakte van de gekleurde delen NIET gelijk aan de oppervlakte van de witte delen?



Bron: Wallaroe 2011, vraag 9

Welke omtrek is het grootst?



De omtrek van de aarde



De omtrek van een tennisbal

