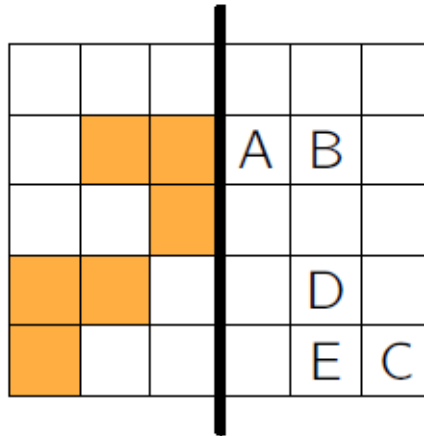


INZICHTKAART

INZICHTKAART


Een ruitjesblad wordt op een dikke lijn dichtgevouwen.
Welke letter wordt **NIET** bedekt door een gekleurd ruitje?



- A A
- B B
- C C
- D D
- E E

Bron: Wallaroe 2011, vraag 16

Rubi vouwt een tekening van vier kangoeroes dubbel en vouwt ze daarna weer open. Ze doet dat vier keer na elkaar zoals je hiernaast kan zien. Hoeveel keer overlappen de kangoeroes elkaar **precies**?




- A 0
- B 1
- C 2
- D 3
- E 4

Bron: Wallaroe 2010, vraag 3

INZICHTKAART

INZICHTKAART

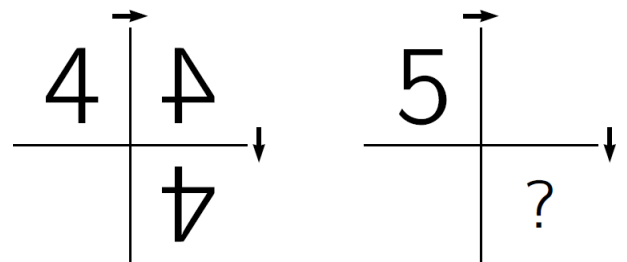
Michael zit in een bootje op een meer.
 Op de oever ziet hij een boom.
 Welke weerspiegeling ziet hij in het water?



- A
- B
- C
- D
- E

Bron: Wallaroe 2012, vraag 12

We spiegelen het cijfer 4 twee keer, zoals in de figuur. Als hetzelfde met 5 gebeurt, wat komt er dan op de plaats van het vraagteken?



- A
- B
- C
- D
- E

Bron: Wallaroe 2010, vraag 6

INZICHTKAART

INZICHTKAART

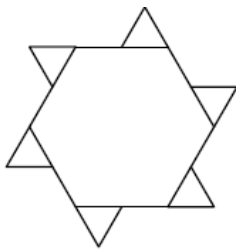
Kun jij het spiegelschrift lezen? Wat staan er geschreven?

Als het niet goed lukt, mag je een spiegel gebruiken.


De Weetkunde Driehoek is super tof!

Welk van de volgende figuren heeft het kleinste aantal spiegellijnen?


A




B



C



D



E

