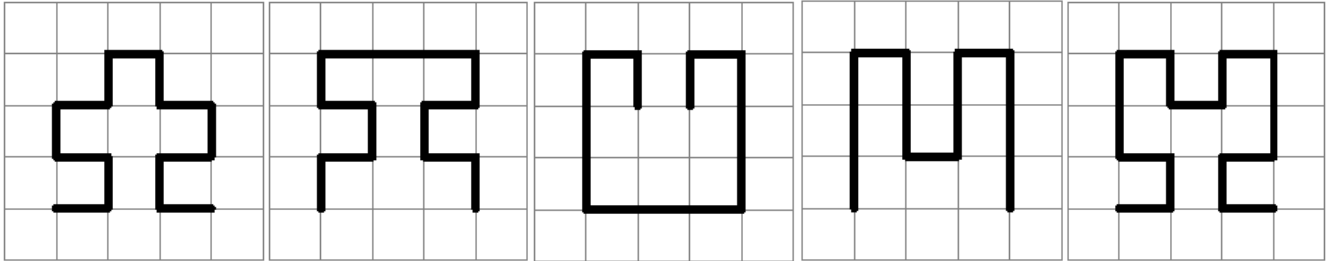


# INZICHTKAART

# INZICHTKAART

Welke lijn is het langst?



A

B

C

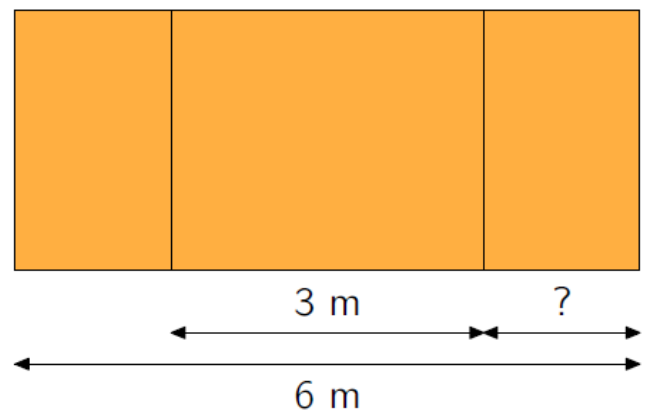
D

E

Bron: Wallaroe 2012, vraag 6

Het bord van juf Nele is 6 m breed. Het middelste deel meet 3 m. De 2 andere delen hebben dezelfde breedte.

Hoe breed is het rechterdeel?



- A 1 m   
  B 1,25 m   
  C 1,5 m   
  D 1,75 m   
  E 2 m

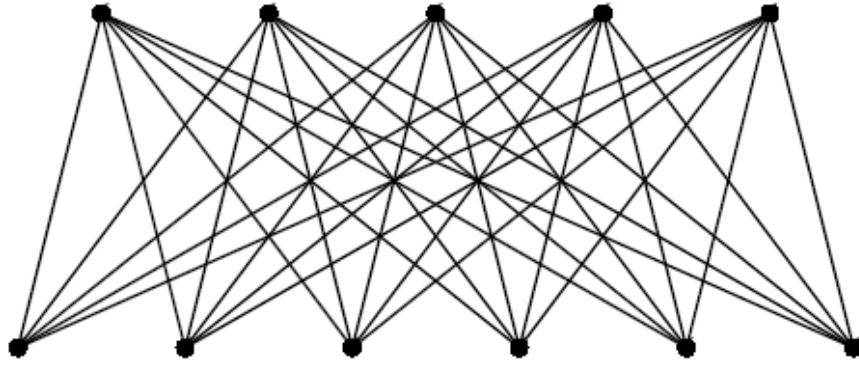
Bron: Wallaroe 2012, vraag 7

# INZICHTKAART

# INZICHTKAART

Timon heeft alle bovenste punten met alle onderste punten verbonden.

Hoeveel lijnstukken heeft Timon getekend?



- A** 20      **B** 25      **C** 30      **D** 35      **E** 40

Bron: Koala 2010, vraag 4

Welke soort lijn vind je **NIET** terug in de volgende figuur?



- A** Gebogen lijn      **B** Rechte lijn      **C** Gebroken lijn

# INZICHTKAART

# INZICHTKAART

Wat kan je zeggen over de draden van de waslijn in de volgende figuur?


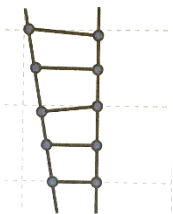
- A** Het zijn rechte, evenwijdige lijnen.
- B** Het zijn gebogen, evenwijdige lijnen.
- C** Het zijn rechte, loodrechte lijnen.
- D** Het zijn gebogen, snijdende lijnen.



De leerlingen 'Hout' willen touwladders maken. De leraar heeft twee tekeningen gemaakt van hoe de touwladders er moeten uitzien.

Welke tekening is de beste?

- A** Tekening 1
- B** Tekening 2



Waarom?

- A** De latten van een touwladder zijn snijdend.
- B** De latten van een touwladder zijn evenwijdig.

